



SOAL UJI KOMPETENSI
 PROGRAM STUDI ARSITEKTUR
 FAKULTAS TEKNIK DAN PERENCANAAN
 UNIVERSITAS WARMADewa
 SELASA, 07 JULI 2020

KETENTUAN UJIAN

Jawaban dibuat dalam 1 lembar kertas A3, menggunakan sketsa dengan pensil serta melengkapi identitas seperti no ujian/pendaftaran dan Nama.

Seluruh peserta (baik dengan sistem online/offline wajib mengunggah hasil jawaban sketsanya ke link berikut.

https://bit.ly/PENMARU_ARSITEKTUR_UNWAR2020

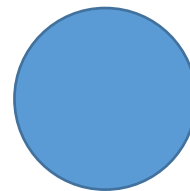
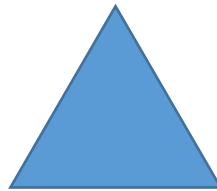
Link dibuka sampai Selasa Tanggal 7 Juli 2020 pukul 21.00 Wita

Catatan:

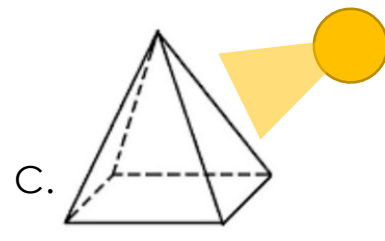
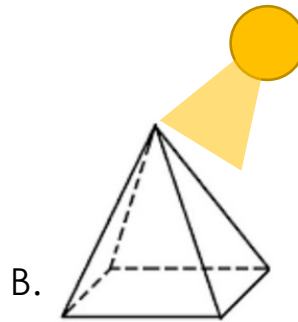
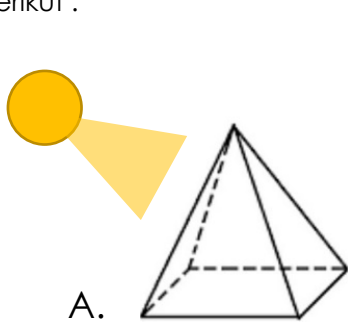
- Pastikan membawa HP/perangkat lain yang memiliki kamera
- Pastikan memiliki dan mengaktifkan akun Gmail
- Pastikan memiliki kuota internet yg cukup dan berada pada jaringan yang baik.

SOAL:

1. Buatlah gambar bangun ruang berdasarkan bentuk dasar berikut :



2. Gambarkanlah bayangan objek prisma dibawah, dengan titik sumber cahaya sebagai berikut :



3. Buatlah gambar bebas dari bentukan objek berikut



----Selamat bekerja----